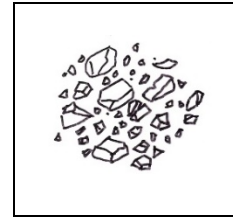
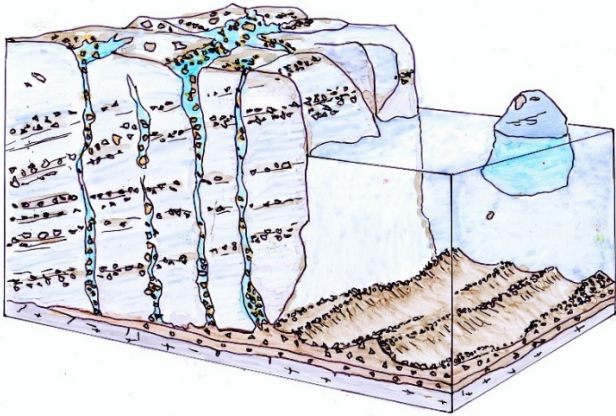
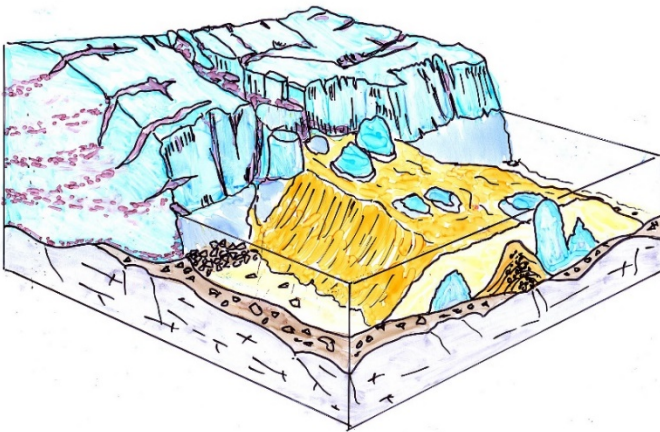


## I Moreeni, reunamoreeni ja pohjamoreeni




- 1) Mitä on moreeni ?
- 2a) Nimeä kuvaan reunamoreeni b) miten reunamoreeni syntyy? c) Nimeä pohjamoreeni d) miten pohjamoreeni syntyy?

## II Jäätikköjoki, suppalammen synty

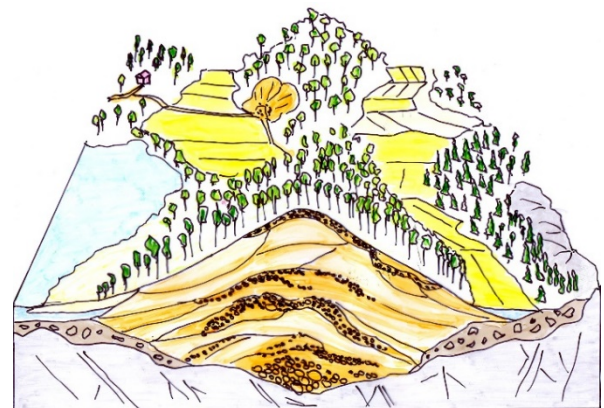
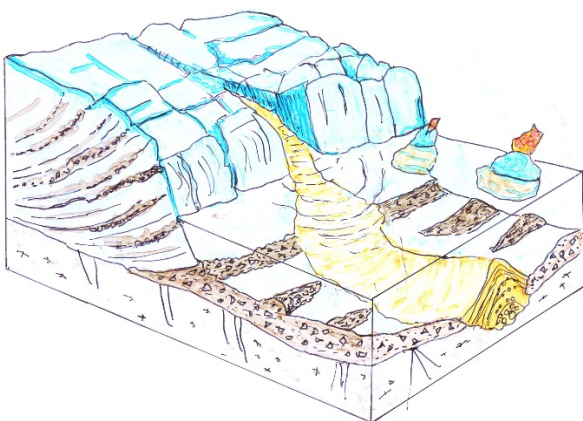


- 3) Merkitse jäätikön sulamiskuvaan a) jäätikölle jäätikköjoen kulkusuunta b) jäävuori c) sulamisvesivirtaan kerrostuvaa sora ja hiekkaa d) hautautunut jäävuori e) suppalampi



- f) Kirjoita **kolmen faktan kertomus** supan synnystä

## III Harjun synty sulamisvesivirtaan



- 4) Merkitse a) jäätikköjoen purkupaikka b) jäävuori c) siirtolohkare e) reunamoreeni f) pohjamoreeni

- 5a) Mitä on sora? (kaksi lausetta) b) Mitä tarkoittaa: Sora on **läpäisevä maalaji**? c) Mikä on harjualueen pääpuulaji? d) Mitä peltojen sijainti kertoo harjun alarinteen maalajista?

