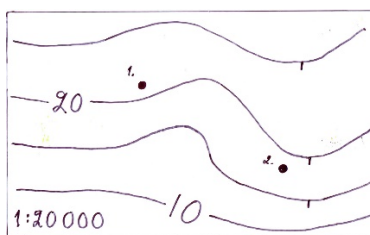


Kartta ja korkeuskäyrät 8 maantieto

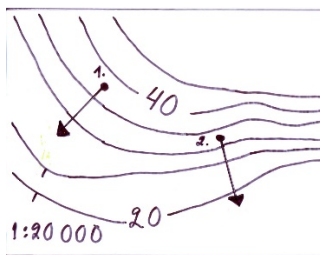
- 1a) Millaisia korkeuskäyriä on peruskartalla? (sivu 14) b) Piirrä kuvat kuvan 1 muodostumista d) Arvioi kuvassa pisteiden 1 ja 2 korkeudet (meren pinnan yläpuolella = mpy) e) kumpi rinteistä on jyrkempi korkeuskäyristä tulkiten?



kuva1



d)



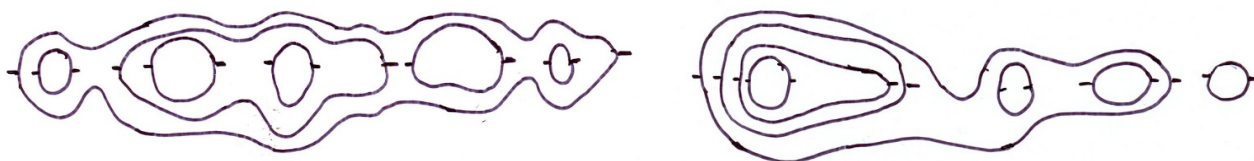
e)

2) Kuvaa korkeuskäyrien mäkeä



3a) Luonnostelee mäen muoto sivukuvana (profiilina)

- b) montako huippua mäessä on?



4a) Miten korkea on korkein mäki kartalla b) Etsi korkeuspiste kartasta. Mitä se tarkoittaa?

